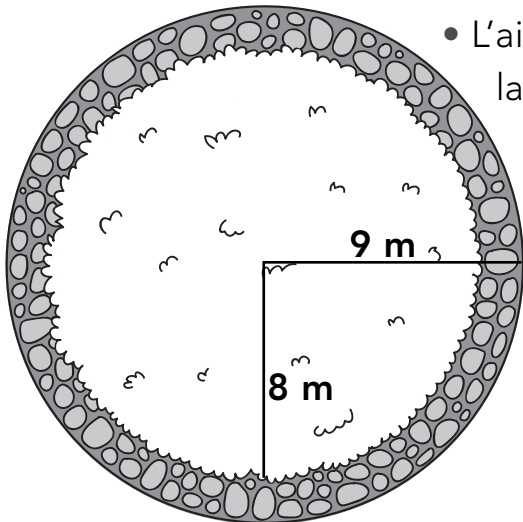



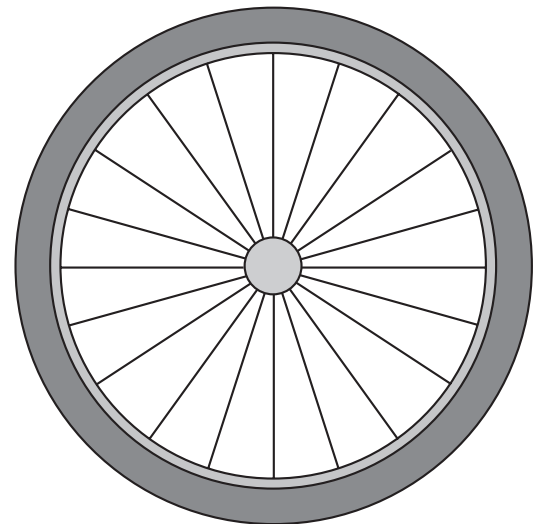
Circonferenza e cerchio

1 Risolvi i problemi. Usa un foglio a parte.



- L'aiuola di una rotonda stradale ha una parte esterna lastricata con pietre e una parte centrale con prato. Il raggio complessivo dell'aiuola è di 9 metri. La parte con prato ha un raggio di 8 metri. Qual è la misura della superficie della parte lastricata?

- La ruota di una bici ha il diametro di 60 cm. Di quanti metri avanza la bici per ogni giro della ruota?



- La Terra ha una circonferenza all'Equatore di 40.057 km circa. Quanto è il suo diametro?

Soluzione corretta/3	Calcoli corretti/3
--------------------	---------	------------------	---------